

TAREAS PARA HACER EN CASA

ESCUELA N° 1195 " SANTA TERESITA DEL NIÑO JESÚS "

GRADO: 3° A y B

DOCENTES: ANTONELA STEOLA reemplazante (3°A)

MARIELA MONTANO (3°B)

FECHA DE ENTREGA DE LA TAREA: 18-03-21

MODO DE ENTREGA POR MAIL A:

steolaantonela@gmail.com (3° A)

Atención nuevo mail: profemariela2021santateresita@gmail.com (3° B)

IMPRIMIR O COPIAR LAS ACTIVIDADES Y COLOCARLAS EN UNA CARPETA.

¡Para trabajar!

LENGUA


1)

 **MIRÁ** LOS DIBUJOS Y **COMPLETÁ** EL ACRÓSTICO.




47

2)

 **LEÉ O** PISTAS PARA COMPLETAR EL ACRÓSTICO.

O- ANIMAL QUE HIBERNA EN INVIERNO.
V- ANIMAL QUE SE ARRASTRA.
E- MASCOTA QUE LADRA.
J- ANIMAL QUE COME ZANAHORIAS.
A- ANIMAL QUE GALOPA.




- 3) * Lee y copia estas adivinanzas en letra cursiva.
* Pinta las respuestas y escribe su nombre en letra cursiva.

¿QUIÉN SOY?

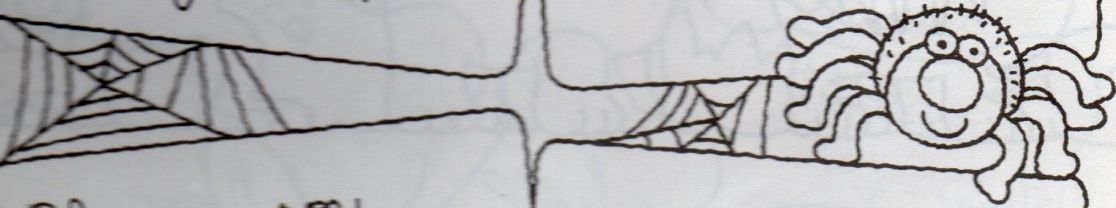
a)

Das compañeras
van al compás,
los pies adelante,
ojos detrás.




b)

En alto vive,
en alto mora,
en alto teje
la tejedora.



c)

Blanca soy,
blanca nací,
pobres y ricos
comen de mí.



Respuestas:

a) _____

b) _____

c) _____

4)

002_tldm_arg_cuadernillo (2).pdf 7 / 92 90%

RECORDANDO NÚMEROS

1) MIRA QUE CARTÓN DE LOTERÍA LE TOCÓ A CADA UNO PARA JUGAR.

EL VERDE ES MI CARTÓN.

12	33	45	60	71
15	21		53	78
8	26	47	55	88

EL MÍO ES EL CELESTE.

	23	30	51	62	81
	10	36	42		70
4	13		49	69	73

2) LEÉ LOS NOMBRES DE LOS NÚMEROS QUE YA SALIERON Y UNÍ SEGÚN SE ENCUENTREN EN EL CARTÓN DEL NENE O EN EL DE LA NENA.

SESENTA Y NUEVE VEINTITRÉS

002_tldm_arg_cuadernillo (2).pdf 7 / 92 90%

2) LEÉ LOS NOMBRES DE LOS NÚMEROS QUE YA SALIERON Y UNÍ SEGÚN SE ENCUENTREN EN EL CARTÓN DEL NENE O EN EL DE LA NENA.

SESENTA Y NUEVE VEINTITRÉS

OCHENTA Y SIETE CINCUENTA Y TRES

QUINCE OCHENTA Y NUEVE

CUARENTA Y DOS SETENTA Y OCHO

6 NÚMEROS HASTA EL 100.

Hay es:

Luego de unir los números, respondé: ¿Quién marcó más números en su cartón?

5)

PARA JUGAR Y APRENDER

1) LEE Y ESCRIBE UNA SUMA O UNA RESTA PARA RESPONDER A CADA PREGUNTA.

AVANZAR →

ESTÁS EN EL CASILLERO 7 Y AVANZÁS 6. ¿A QUÉ CASILLERO LLEGÁS? $7 + 6 = 13$

ESTÁS EN EL CASILLERO 12 Y AVANZÁS 5. ¿A QUÉ CASILLERO LLEGÁS?

ESTÁS EN EL CASILLERO 9 Y AVANZÁS 3. ¿A QUÉ CASILLERO LLEGÁS?

ESTÁS EN EL CASILLERO 8 Y AVANZÁS 4. ¿A QUÉ CASILLERO LLEGÁS?

ESTÁS EN EL CASILLERO 17 Y AVANZÁS 3. ¿A QUÉ CASILLERO LLEGÁS?

RETROCEDER ←

SUMAS

RETROCEDER ←

ESTÁS EN EL CASILLERO 11 Y RETROCEDÉS 6. ¿A QUÉ CASILLERO LLEGÁS? $11 - 6 = 5$

ESTÁS EN EL CASILLERO 19 Y RETROCEDÉS 4. ¿A QUÉ CASILLERO LLEGÁS?

ESTÁS EN EL CASILLERO 10 Y RETROCEDÉS 2. ¿A QUÉ CASILLERO LLEGÁS?

ESTÁS EN EL CASILLERO 17 Y RETROCEDÉS 4. ¿A QUÉ CASILLERO LLEGÁS?

ESTÁS EN EL CASILLERO 13 Y RETROCEDÉS 6. ¿A QUÉ CASILLERO LLEGÁS?

43 ESCRIBIR CÁLCULOS USANDO LOS SIGNOS MÁS, MENOS E IGUAL.

RESTAS

AVANZAR →

ESTÁS EN EL CASILLERO 7 Y AVANZÁS 6. ¿A QUÉ CASILLERO LLEGÁS? $7 + 6 = 13$

ESTÁS EN EL CASILLERO 12 Y AVANZÁS 5. ¿A QUÉ CASILLERO LLEGÁS?

ESTÁS EN EL CASILLERO 9 Y AVANZÁS 3. ¿A QUÉ CASILLERO LLEGÁS?

ESTÁS EN EL CASILLERO 8 Y AVANZÁS 4. ¿A QUÉ CASILLERO LLEGÁS?

ESTÁS EN EL CASILLERO 17 Y AVANZÁS 3. ¿A QUÉ CASILLERO LLEGÁS?

43 ESCRIBIR CÁLCULOS USANDO LOS SIGNOS MÁS, MENOS E IGUAL.